



GUÍA DE TRABAJO ACUMULATIVO

NOMBRE: _____

FECHA: _____ PTJE. TOTAL: 50 ptos. PTJE. OBTENIDO: ____ ptos.

1. Completa el siguiente recuadro según con lo que se te solicita

NOMBRE (1 pto.)	DIBUJO	FUNCIÓN (2 ptos.)	SE ENCUENTRA PROTEGIDO POR (1 pto.)

2. Nombra los tres elementos del cuerpo humano que conforman el Sistema Locomotor.
(3 ptos)

- _____
- _____
- _____

3. Pinta los recuadros que indiquen acciones que promueven el cuidado del cuerpo. (4 ptos.)


Comer Saludable	Tener una vida sedentaria	No Fumar
Hacer Ejercicio	Escuchar música con volumen alto	Dormir 8 horas diarias

4. Completa cada ciclo con el nombre de cada etapa de su ciclo de vida (8 ptos.)

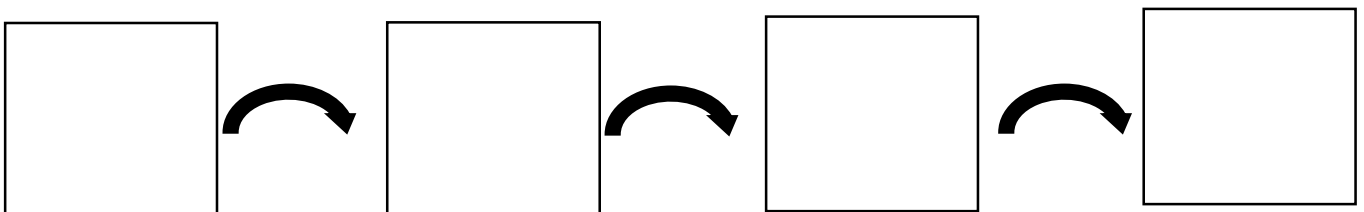


- Pupa
- Huevo
- Adulto
- Larva

- Huevo
- Rana juvenil
- Renacuajo
- Rana Adulta








5. Dibuja el ciclo de vida del ser humano (4 ptos)





6. Observa las imágenes e indica el nombre del grupo de vertebrados que corresponde. Luego, escoge uno de los animales y descríbelo marcando la opción correcta de cada criterio. (9 pts).

Ave- Pez - Mamífero- Reptil - Anfibio

Elijo al: _____

1. Tipo de Cubierta Corporal

Plumas	Pelo	Piel húmeda y sin pelo	Escama	Escama dura (caparazón)
--------	------	------------------------	--------	-------------------------

2. Forma de Respirar

Pulmonar	Branquial	Cutánea	Traqueal
----------	-----------	---------	----------

3. Tipo de desplazamiento

Terrestre	Acuático	Aéreo	Acuático y Terrestre	Acuático y Aéreo
-----------	----------	-------	----------------------	------------------

4. Dónde se desarrolla el embrión

Vivíparo	Ovíparo
----------	---------

7. Une con una línea la imagen con el nombre del animal de invertebrados. (3 pts.)



Arácnido

Insecto

Crustáceo

8. Responde la siguiente pregunta: ¿El ser humano es vertebrado o invertebrado? ¿Por qué? (3 pts.)
